



Evaluación Formativa III – Matemáticas – 1° Básico

Nombre: _____ Fecha: _____

OA: Demostrar que comprenden la adición de números del 0 al 10.

1 Observa y resuelve la siguiente operación.

¿Cuántos niños hay en total?



Respuesta: niños

2 Observa la imagen y luego responde.

Hay  y 
¿Cuántos conejos hay en total?

Respuesta: conejos

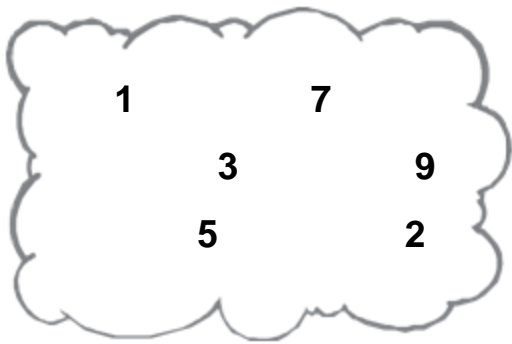
3 Observa la imagen:



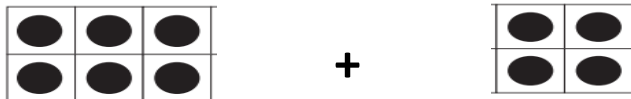
El número representado es:

- A) 13
- B) 10
- C) 12

4) Ordena los siguientes números de mayor a menor:



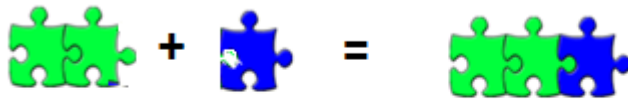
5) Observa los siguientes círculos y resuelve la suma.



¿Cuál es el resultado de esta suma?

- A) 11
- B) 10
- C) 9



6) Observa el dibujo y luego identifica a que suma pertenece. Marca una cruz sobre ella.



- $1 + 1 = 2$ $1 + 2 = 3$ $2 + 1 = 3$ $3 + 1 = 4$

7) Resuelve el siguiente problema:

En una estación de trenes, hay dos trenes. Uno tiene 5 vagones y el otro tiene 2. ¿Cuántos vagones hay en total?



+ =