



Evaluación Formativa IV–Matemática. – 1° Básico

Nombre: _____ Fecha: _____

OA9: Demostrar que comprenden la adición y la sustracción en números del 0 al 10.
OA14: Ubicar en el entorno figuras 2d y 3D y relacionarlas

¿Recuerdas lo que era una adición o suma? La suma o adición, es agregar una cantidad a otra, para obtener un total y se representa con el signo (+).

Marca la alternativa correcta

Resuelve los problemas 1 y 2.

1. Camila tiene 4 flores amarillas y 5 flores rojas, ¿Cuántas flores tiene **en total**?

A) 8




$$\square + \square = \square$$

B) 7

C) 9

2. Observa los huevos que recogió Juan:



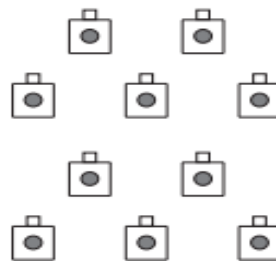
¿Cuántos huevos recogió en total Juan?

A) 8

B) 7

C) 6

3. Observa la siguiente representación:




¿A que número corresponde?

- A) 9
- B) 5
- C) 10

“Recordemos qué es una resta”. La resta es quitar una cantidad a otra que ya tenemos. Se representa con el signo (-)

Resuelve el siguiente problema.

4. Elisa tiene 10 peces y regaló 5, ¿Cuántos peces le quedan?



$$\square - \square = \square$$


5. La siguiente figura :



¿A qué figura 2D se parece?



A)



B)



C)

6. ¿Cuál de estos objetos tiene la forma de un cubo?



A)



B)



C)

7. ¿Cuál de estos objetos tiene la forma de una esfera?



A)



B)

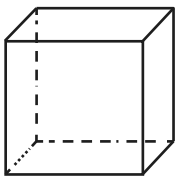


C)

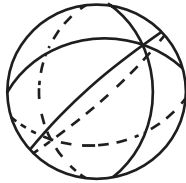
8. Observa la caja



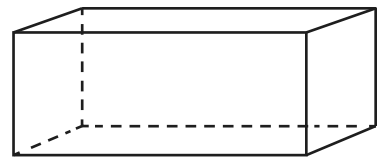
¿Cuál de las siguientes figuras tiene la forma de la caja?



A)



B)



C)