

Evaluación formativa VI

Nombre: _____ Puntaje Total: 10 pts.

OA 15. Demostrar que comprenden la relación que existe entre figuras 3D y figuras 2D.

OA 21: Demostrar que comprenden el perímetro de una figura regular e irregular.

OA 25: Construir, leer e interpretar pictogramas y gráficos de barra simple con escala, en base a información recolectada o dada.

La siguiente evaluación tiene como objetivo monitorear tu proceso de aprendizaje, es decir, verificar lo que has aprendido durante las últimas semanas.

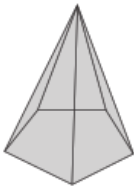
Esta evaluación deberá ser entregada el día 10/11 al correo: monicaortega.pjq@gmail.com

“Recuerda revisar tus guías y textos de estudios antes de realizar esta evaluación”

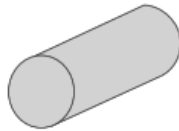
Responde las siguientes preguntas, marcando con una **X** la alternativa correcta.

1. ¿Cuál de los siguientes dibujos de figuras 3D tiene 6 caras y 12 aristas?


A.



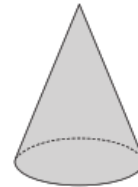
B.



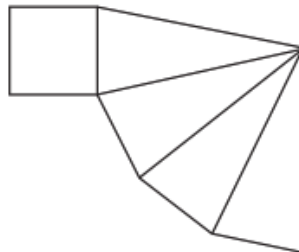
C.



D.

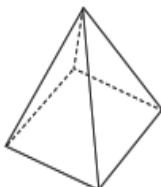


2. Observa la siguiente red de un cuerpo geométrico:

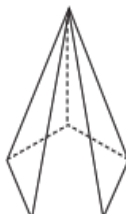


¿Qué cuerpo se forma con esta red?

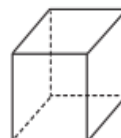
A.



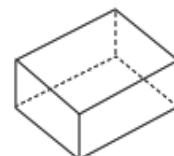
B.



C.




D.



3. En la siguiente imagen, ¿qué figura 2D corresponde a la cara que apunta la flecha?

- A. Círculo.
- B. Triángulo.
- C. Cuadrado.
- D. Rectángulo.



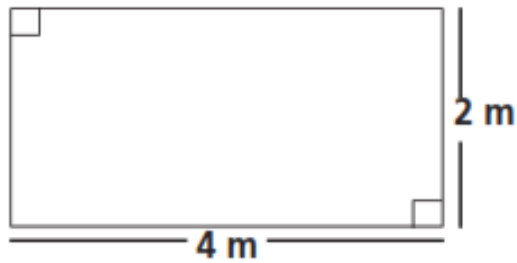
4. El perímetro de un cuadrado mide 24 cm.



¿Cuánto mide el **lado** del cuadrado?


- A. 4 cm.
- B. 6 cm.
- C. 12 cm.
- D. 24 cm.

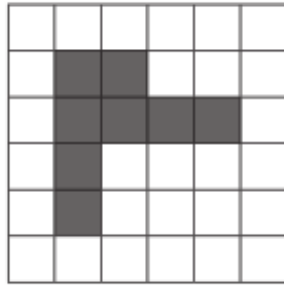
5. Observa la piscina de esta casa:



¿Cuál es su perímetro?

- A. 6 m.
- B. 8 m.
- C. 12 m.
- D. 18 m.

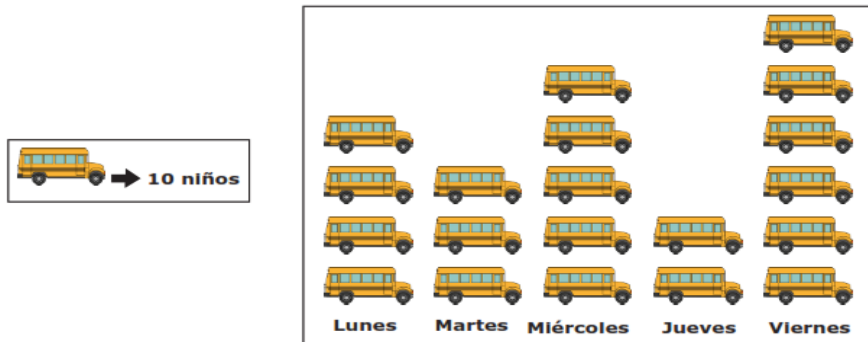
6. En la siguiente cuadrícula cada lado del  mide 1cm:



¿Cuánto mide el perímetro de la figura sombreada?

- A. 8 cm.
- B. 12 cm.
- C. 14 cm.
- D. 16 cm.

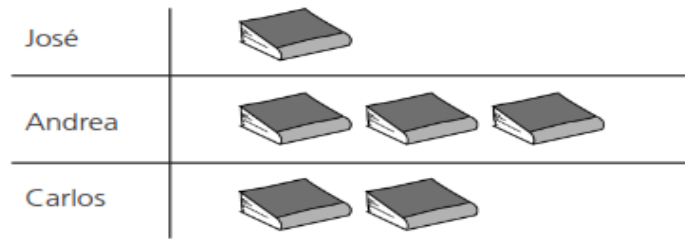
7. La tía Luisa hizo un pictograma para saber cuántos estudiantes transportó en una semana.



Si en cada furgón caben 10 niños, ¿cuántos niños transportó el día miércoles?

- A. 5
- B. 20
- C. 50
- D. 25

8. En el siguiente pictograma, cada  significa 5 libros leídos:

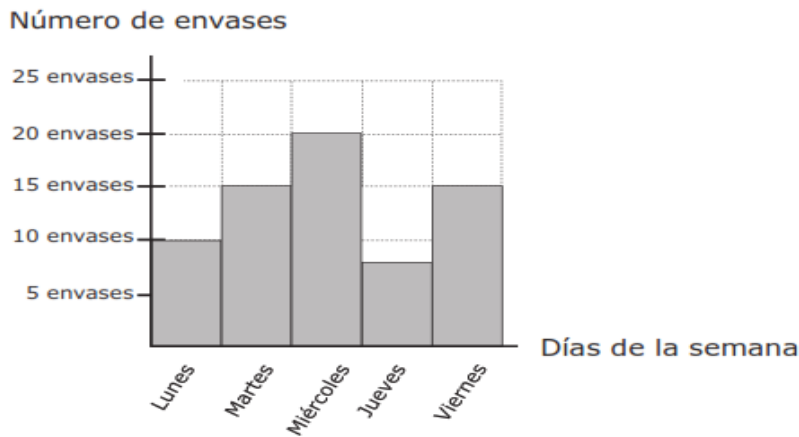


¿Cuántos libros **más** leyó Andrea que José?

- A. 2
- B. 4
- C. 10
- D. 15

Observa el siguiente gráfico y responde las preguntas 9 y 10.

Los niños del 3° Básico durante la semana recogieron envases de bebidas reciclables. La información la registraron en el siguiente gráfico de barras.



9. ¿Cuántos envases de bebidas recogieron el martes?

- A. 20 envases.
- B. 15 envases.
- C. 10 envases.
- D. 50 envases.

10. ¿Cuál es la diferencia de envases recogidos entre el miércoles y el viernes?

- A. 5 envases.
- B. 20 envases.
- C. 15 envases.
- D. 35 envases.